

# Geometria 7/5/14

"Modelli" delle quadriche affini (non degeneri):

$$\emptyset \quad x^2 + y^2 + z^2 + 1 = 0, \quad \begin{pmatrix} x \\ y \\ z \\ 1 \end{pmatrix} \begin{pmatrix} & & & \\ & & & \\ & & & \\ & & & \end{pmatrix} \begin{pmatrix} x \\ y \\ z \\ 1 \end{pmatrix} = 1$$

ellissoide  $x^2 + y^2 + z^2 = 1$

$$\begin{pmatrix} 1 & & & \\ & 1 & & \\ & & 1 & \\ & & & -1 \end{pmatrix}$$


parab. ell.  $-2z = x^2 + y^2$

$$\begin{pmatrix} 1 & & & \\ & 1 & & \\ & & 1 & \\ & & & \hline & & & 0 \ 1 \\ & & & 1 \ 0 \end{pmatrix}$$

iparb. ell.  
(2 folde)

$$x^2 + y^2 - z^2 + 1 = 0$$


$$\begin{pmatrix} 1 & & & \\ & 1 & & \\ & & -1 & \\ & & & 1 \end{pmatrix}$$



iparb. iparb.  
(1 folde)

$$x^2 + y^2 - z^2 - 1 = 0$$

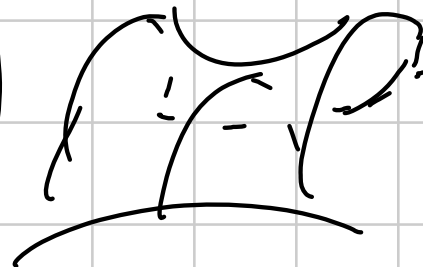
$$\begin{pmatrix} 1 & & & \\ & 1 & & \\ & & -1 & \\ & & & -1 \end{pmatrix}$$



parab. iparb.  
(2 selle)

$$-2z = x^2 - y^2$$

$$\begin{pmatrix} 1 & & & \\ & -1 & & \\ & & \boxed{\begin{matrix} 0 & 1 \\ 1 & 0 \end{matrix}} & \\ & & & \end{pmatrix}$$



Teo(1) ogni insieme in  $\mathbb{R}^3$  def.

da  $\begin{pmatrix} x \\ y \\ z \end{pmatrix} \cdot A \cdot \begin{pmatrix} x \\ y \\ z \end{pmatrix} = 0$  con  ${}^t A = A$ ,  $\det(A) \neq 0$

viene trasformato in uno dei 6 modelli elencati  
tramite una trasformazione affine;

(2) i segni degli autovalori di  $A$  e di  $Q$

( $A = \begin{pmatrix} a & b \\ c & d \end{pmatrix}$ ) dicono in quale dei modelli  
si trasforma (e diremo come).

(3) i segni di  $d_1, d_2, d_3, d_4$  (con un piccolo  
accoppiamento) dicono in quale si trasforma.

CONSIGLIO: Non imparare a memoria la regola  
con i segni di  $d_1, d_2, d_3, d_4$  ma  
ragionare sui segni degli autovalori.

Dimo (1)+(2). Operazioni lecite su  $A = \begin{pmatrix} q & l \\ t & c \end{pmatrix}$ :

(a) sostituire  $A$  con  ${}^t \begin{pmatrix} B & v \\ 0 & 1 \end{pmatrix} \cdot A \cdot \begin{pmatrix} B & v \\ 0 & 1 \end{pmatrix}$   
(cambio coord. affine)

(b) sostituire  $A$  con  $k \cdot A$  con  $k > 0$

(c) sostituire  $A$  con  $k \cdot A$  con  $k < 0$  \_

Mostro che tramite una nei riconduco a uno dei modelli, e che i segni degli autovalori di  $A$  e di  $Q$  dicono a quale \_

Oss: (a)+(b) : non cambiano i segni degli autov. di  $A$   
 e di  $Q$   
 (c) : cambiano tutti.

Affermo che a meno di (a), (b)/(c) i casi per i segni degli autov. di  $Q$ , quelli di  $A$ , e per l'iniziale sono questi:

autov. $Q$	autov. $A$	iniziale
+	+	$\emptyset$
+	-	ellissoide

$++-$	$++-+$	ip. ell. (2 fide)
	$++--$	ip. iperb. (1 fide)
$++0$	$+++$	parab. ell.
$+ - 0$	$+ - + -$	parab. iperb.

(tutto nell'ipotesi  $\det A \neq 0$ ) -

I. Proviamo che a meno di  $(a/b/c)$  p.e. autovel.  
di  $Q$  sono solo  $+++$ ,  $++-$ ,  $++0$ ,  $+ - 0$  -

L'unico caso escluso a meno di (c) è  $00*$ :  
 se fosse  $00*$  avrei che  $\exists B$  t.c.  ${}^t B \cdot A \cdot B = \begin{pmatrix} 0 & \\ & * \end{pmatrix}$

$$\Rightarrow {}^t \begin{pmatrix} B & 0 \\ 0 & 1 \end{pmatrix} \cdot A \cdot \begin{pmatrix} B & 0 \\ 0 & 1 \end{pmatrix} = \left( \begin{array}{ccc|c} 0 & 0 & 0 & \vdots \\ 0 & 0 & 0 & \vdots \\ 0 & 0 & * & \vdots \\ \hline \cdot & \cdot & \cdot & \cdot \end{array} \right) : \text{assumo per chi} \\ \det A \neq 0$$

II. Proviamo che date  $Q$  le possibilità per  $A$  sono solo quelle in tabella (nota:  $A$  non può mai avere 0).

$Q: + + +$  ; diciamo  $A: + + + +$   
 $A: + + + -$

ovvero che  $A$  non può avere due autovalori negativi:

se così fosse avremmo

$$\langle v | v \rangle_A > 0 \quad \forall v \in \mathbb{R}^3 \setminus \{0\}, v \neq 0$$

$$\langle w | w \rangle_A < 0 \quad \forall w \in W, w \neq 0$$

$$\dim W = 2$$

poiché  $3 + 2 > 0$  ho una retta di intersezione

$\Rightarrow$  assurdo

Altri casi analoghi:

$$Q \quad \underline{+ + -}$$

$\Rightarrow$   $\dim 2$  def  $\uparrow$  pos

$$A \quad \begin{matrix} + & + & - & + \\ + & + & - & - \end{matrix}$$



sto escludendo  $\underbrace{++++}$ ,  $\underbrace{----}_*$   $\dim 3$  def  $\checkmark$   
 ovvio come sopra

$$Q: ++0 \Rightarrow A +++-$$

sto escludendo  $++++$ ,  $--**$

$A$  sarebbe def pos.  
 ma che  $\exists Q \cdot v = 0, v \in \mathbb{R}^3$   
 ho  $\langle v | v \rangle_A = 0$

$\dim Z_1 \geq 0$

su  $\mathbb{R}^3 \setminus \{0\}$   $\bar{e} \geq 0$   
 su  $W$ ,  $\dim W = 2$   $\bar{e} < 0$   
 assurdo

Q:  $\overset{\color{red}{-}}{+} - \overset{\color{red}{-}}{0}$  dico che A  $+ - + -$

$\underbrace{\hspace{2cm}}_{\text{dim } 2 \leq 0}$

sto escludendo

$+ + + \neq$

$\underbrace{\hspace{2cm}}_{\text{dim} = 3}$   
 $> 0$

$- - - \neq$

$\underbrace{\hspace{2cm}}_{\text{dim} = 3}$   
 $< 0$

IV. Conoscendo i segni di autoval di Q e di A  
ci si riconduce a uno dei 6 modelli -

Come già visto per coniche + caso proiettivo  
posso usare prima B ortogonale per

riordinando e  $Q$  diagonale, poi ortogonale sulle coordinate, poi cambio segno per ottenere  $Q$  diagonale con autovalori  $\pm 1, 0$  come prescritto dai segni!

$$Q: \begin{pmatrix} 1 & & & \\ & 1 & & \\ & & 1 & \\ & & & 1 \end{pmatrix} \begin{pmatrix} 1 & & & \\ & 1 & & \\ & & 1 & \\ & & & -1 \end{pmatrix} \begin{pmatrix} 1 & & & \\ & 1 & & \\ & & 1 & \\ & & & 0 \end{pmatrix} \begin{pmatrix} 1 & & & \\ & -1 & & \\ & & 1 & \\ & & & 0 \end{pmatrix}$$

autoref  
A

++++  
+++ -

++-+  
++--

+++-

+--+

Nei primi due casi con traslazione mi  
riconduco a

$$\begin{pmatrix} 1 & & & 0 \\ & 1 & & 0 \\ & & \pm 1 & 0 \\ 0 & 0 & 0 & \ast \end{pmatrix} \Rightarrow \text{a meno di omotetie}$$

$$\begin{pmatrix} 1 & & \\ & 1 & \\ & & \pm 1 \\ & & & \pm 1 \end{pmatrix}$$

$\emptyset$ , ellissoide, iperb. ell.  
iper. / pers.

Nei altri due mi riconduco a

$$\left( \begin{array}{ccc|c} 1 & & & 0 \\ & \pm 1 & & 0 \\ & & 0 & a \\ \hline 0 & 0 & a & b \end{array} \right)$$

con  $a \neq 0$

$\Rightarrow$  USO

$$\left( \begin{array}{cc} \parallel & \\ & \parallel \\ & & -1/a & -b/a \\ & & 0 & 1 \end{array} \right)$$

$${}^t \begin{pmatrix} -1/a & -b/a \\ 0 & 1 \end{pmatrix} \begin{pmatrix} 0 & a \\ a & b \end{pmatrix} \begin{pmatrix} -1/a & -b/a \\ 0 & 1 \end{pmatrix} = \begin{pmatrix} 0 & \mp 1 \\ \mp 1 & 0 \end{pmatrix}$$

$\Rightarrow$  mi sono ricondotto e

$$\begin{pmatrix} 1 & & & \\ & \pm 1 & & \\ & & 0 & +1 \\ & & +1 & 0 \end{pmatrix}$$

parab. ell.  
parab. ipob.



Parte(3):

Prop: Se  $d_1, d_2, d_3 \neq 0$  i seni degli angoli  
di  $Q$  sono  $d_1, \frac{d_2}{d_1}, \frac{d_3}{d_2}$

di  $A$  sono  $d_1, \frac{d_2}{d_1}, \frac{d_3}{d_2}, \frac{d_4}{d_3}$

$\Rightarrow$  si ottiene direttamente le damp/corbu

Se  $d_3 = 0$  ma  $d_4 \neq 0$  (non degenere)  
bisogna coprire gli autovalori di  $Q$ :

$++0 / --0 \rightarrow$  parab. ell.

$+ - 0 \rightarrow$  parab. iperb.

In pratica per capire il caso in cui ci si trova  
basta permutare le coordinate fino ad  
ottenere un caso con  $d_2 \neq 0$ : allora

$d_2 < 0 \Rightarrow$  parab. iperb.

$d_2 > 0 \Rightarrow$  parab. ell.

Dettaglio neanche (vedi libro):

Si può provare che se per ogni permutazione  
delle coordinate si ha  $d_2 = 0$  allora



si ha  $d_3 \neq 0$  e viene un iperb. ell./iparb.  
riconoscibile dai segni di  $d_1 \neq 0, d_3, d_4$  -



Esempio:

$$(1) \quad x^2 - y^2 + 2z^2 + 6xy - 2xz + 4x = 0$$

$$A = \begin{pmatrix} 1 & 3 & -1 & 2 \\ 3 & -1 & 0 & 0 \\ -1 & 0 & 2 & 0 \\ 2 & 0 & 0 & 0 \end{pmatrix}$$

$$d_1 = 1 > 0$$

$$d_2 = -10 < 0$$

$$d_3 = -2 + 1 - 18 < 0$$

Segui autoval di  $Q$  :  $+$ ,  $-$ ,  $+$

$$d_4 = \det(A) = -2 \cdot 2 \cdot \det \begin{pmatrix} -1 & 0 \\ 0 & 2 \end{pmatrix} = 8 > 0$$

Segui autoval di  $A$  :  $+$ ,  $-$ ,  $+$ ,  $-$


$$\Rightarrow \begin{pmatrix} 1 & & & \\ & -1 & & \\ & & 1 & \\ & & & -1 \end{pmatrix}$$

$$x^2 - y^2 + z^2 - 1 = 0$$

$$x^2 + z^2 = 1 + y^2$$

$$(x^2 + z^2 = 1 + y^2)$$

iprob. ell. (1-falda)



Esercizi (1° foglio 18/4 - coniche) -

$$1. x^2 + 2xy - y^2 + 2x - \sqrt{3} = 0$$

$$\begin{pmatrix} 1 & 1 & 1 \\ 1 & -1 & 0 \\ 1 & 0 & -\sqrt{3} \end{pmatrix}$$

$$d_1 > 0$$

$$d_2 < 0$$

$\Rightarrow$  iperbole  
NO

dopo vedere anche  
 $d_3 \neq 0$

$$d_3 = \sqrt{3} + 1 + \sqrt{3} = 1 + 2\sqrt{3} \neq 0 \Rightarrow \text{iperbole} -$$

$$2. 2x^2 - xy - 3y^2 - 5x + 10y - 3 = 0$$

$$\begin{pmatrix} 2 & -1/2 \\ -1/2 & \dots \end{pmatrix} \xrightarrow[\times 2]{} \begin{pmatrix} 4 & -1 & -5 \\ -7 & -6 & 10 \\ -5 & 10 & -6 \end{pmatrix}$$

$$d_2 < 0$$
$$d_3 = \det \begin{pmatrix} 4 & -1 & -5 \\ 7 & -8 & 0 \\ -5 & 10 & -6 \end{pmatrix} = \det \begin{pmatrix} 4 & 7 & -5 \\ 7 & 6 & 0 \\ -5 & 0 & -6 \end{pmatrix}$$

$$= -144 - 150 + 294 = 0 \Rightarrow \text{è degenere, non un'iperbole.}$$

$$2x^2 - xy - 3y^2 - 5x + 10y - 3 = 0$$

$$(2x - 3y + 1)(x + y - 3) = 0$$



due rette  
incidenti.

$$3. 5x^2 - 4xy + 7y^2 + 4x - 3y - \sqrt{11} = 0$$

$$\begin{pmatrix} 5 & -2 & 2 \\ -2 & 7 & -3/2 \\ 2 & -3/2 & -\sqrt{11} \end{pmatrix}$$

$$d_1 > 0 \quad d_2 > 0$$

$$d_3 > 0 \rightarrow \emptyset$$

$$d_3 < 0 \rightarrow \text{ellipse}$$

$$d_3 = -3\sqrt{11} + 12 - 28 - \frac{45}{4} < 0$$

$\Rightarrow$  ellipse

$$4. \quad 3x^2 - 6xy + 3y^2 + 4x - 5y - 19 = 0$$

$$\begin{pmatrix} 3 & -3 & 2 \\ -3 & 3 & -5/2 \\ 2 & -5/2 & -19 \end{pmatrix}$$

$$d_2 = 0$$

$\Rightarrow$  parabole  
NO

da  $d_2 = 0$  und  $d_3 \neq 0$

$$d_3 = -9 \cdot 19 + 30 - 12 \cdot 9 \cdot 19 - \frac{75}{4} \neq 0 \Rightarrow \text{parabole}$$

$$8. \quad 3x^2 - 6xy + 6y^2 - 2x - 2y - 5 = 0$$

$$\begin{pmatrix} 3 & -3 & -1 \\ -3 & 6 & -1 \\ -1 & -1 & -5 \end{pmatrix}$$

$$d_1 > 0, \quad d_2 > 0$$

$$d_3 = \det \begin{pmatrix} 3 & -3 & -1 \\ -6 & 9 & 0 \\ -16 & 14 & 0 \end{pmatrix} = \det \begin{pmatrix} 6 & 9 \\ 16 & 14 \end{pmatrix} < 0$$

ellipse

$$10. \quad 4x^2 - 5xy + 6y^2 - 2x - y + 22 = 0$$

$$\begin{pmatrix} 8 & -5 & -2 \\ -5 & 12 & -1 \\ -2 & -1 & 44 \end{pmatrix}$$

$$d_1 = 8 > 0 \quad d_2 > 0$$

$$d_3 = 8 \cdot 12 \cdot 44 - 20 - 48 - 25 \cdot 44 - 8$$

$$= 44(96 - 25) - 76 > 0 \quad \Rightarrow \emptyset$$



$$11. x^2 + 2xy + y^2 + x + y = 0$$

$$\begin{pmatrix} 1 & 1 & -1/2 \\ 1 & 1 & -1/2 \\ -1/2 & -1/2 & 0 \end{pmatrix}$$

$$d_2 = 0$$

$d_3 = 0$  degenere

$$(x+y)^2 + (x+y) = 0$$

$$(x+y)(x+y+1) = 0$$



due rette parallele

$$18. \quad 3x^2 - 5xy + 2y^2 - 2x + 6y - 1 = 0$$

$$\begin{pmatrix} 6 & -5 & -2 \\ -5 & 4 & 6 \\ -2 & 6 & -2 \end{pmatrix}$$

$$d_2 = 24 - 25 < 0$$

$$d_3 = \det \begin{pmatrix} 8 & -11 & 0 \\ -11 & 22 & 0 \\ -2 & 6 & -2 \end{pmatrix} = -22 \det \begin{pmatrix} 8 & -1 \\ -11 & 2 \end{pmatrix} \neq 0$$

iparbole

$$29. \quad 17x^2 + 12xy + 8y^2 + 20x - 40y = 0$$

$$\begin{pmatrix} 17 & 6 & 10 \\ 6 & 8 & -20 \\ 10 & -20 & 0 \end{pmatrix} \quad d_1 > 0, \quad d_2 > 0$$
$$d_3 = \det \begin{pmatrix} 29 & 22 & 0 \\ 6 & 8 & -20 \\ 10 & -20 & 0 \end{pmatrix}$$

$$= 200 \det \begin{pmatrix} 29 & 22 \\ 1 & -2 \end{pmatrix} < 0 \quad \text{ellisse}$$

$$32. \quad x^2 + 2xy + y^2 + \sqrt{2}x - \sqrt{2}y + 2 = 0$$

$$\begin{pmatrix} 2 & 2 & +\sqrt{2} \\ 2 & 2 & -\sqrt{2} \\ +\sqrt{2} & -\sqrt{2} & 4 \end{pmatrix}$$

$$d_2 = 0$$

$$d_3 = 16 - 4 - 4 - 4 - 16 - 4 \neq 0$$

$\Rightarrow$  parabola -